
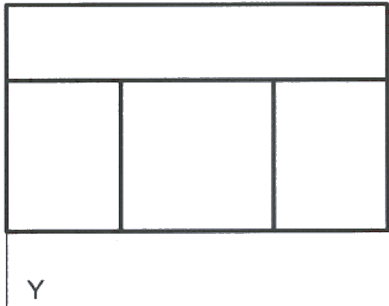
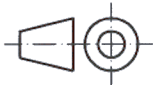
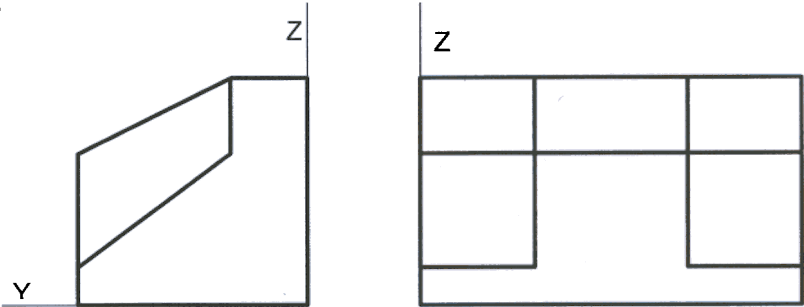


OPCIÓN II
EJERCICIO 2º: PERSPECTIVA CABALLERA.

Representados el alzado, planta y perfil derecho de una pieza según el método de representación del primer diedro de proyección a escala 1:2, se pide dibujar su perspectiva caballera a escala 1:1, en el sistema de ejes indicados, aplicando un coeficiente de reducción de 3/4.



Puntuación:	
Aplicación del coeficiente:	0,5 puntos
Aplicación de la escala:	0,5 puntos
Perspectiva de la pieza:	2,0 puntos
Puntuación máxima:	3,0 puntos